

الموضوع الثاني

التاريخ:

الجزء الأول: (06 نقاط)

1- "... عندما عادت لجنة التنسيق والتنفيذ إلى تونس قومت العمل الذي قامت به منذ مؤتمر الصومام واعتبرت أنه من الضروري تعزيز الحركة وتنظيمها. فأخذت تُعدّ العدة للدورة العادية للمجلس الوطني للثورة الجزائرية الذي سينعقد بين 20 و28 أوت 1957 وتقرر في هذا الاجتماع زيادة حدة النضال في المجالين العسكري والسياسي والعمل لتأمين وتسريع وصول السلاح إلى الولايات وتنمية العمل الدبلوماسي ...".

سليمان الشيخ / الجزائر تحمل السلاح أو زمن اليقين - ص 87

المطلوب:

- حدّد مفهوم المصطلحات التي تحتها خط.

2- عزّف بالشخصيات الآتية:

- جمال عبد الناصر. - هواري بومدين. - جون كنيدي.

3- أكمل جدول الأحداث.

التاريخ	الحدث
1955/08/20
.....	تأسيس الاتحاد العام للعمال الجزائريين
1945/10/24

الجزء الثاني: (04 نقاط)

قال أحد القادة العسكريين الفيتناميين:

" ... ليس العيب أن يدخل العدو أرضنا ... ولكن العيب أن يدخل ولن نقاومه ... أو يخرج سالما من أرضنا ... "

المطلوب:

انطلاقا من الفقرة واعتمادا على ما درست، اكتب مقالا تاريخيا تحدّد فيه:

1- نموذج واحد لأسلوب التحرر من كل قارة.

2- موقف المعسكرين من الحركات التحررية في العالم الثالث.

الجغرافيا:

الجزء الأول: (06 نقاط)

1- "... بعد خمس سنوات تقريبا على اندلاع الأزمة المالية، يشكل التفتت المتزايد للاقتصاد العالمي، بين ديناميكية البلدان الناشئة ومقاومة الولايات المتحدة والتراجع المستمر لمنطقة اليورو خطراً على الآفاق الاقتصادية العالمية، مما يعني أنه ما من دولة بمنأى عن الاضطرابات الاقتصادية الاجتماعية، على الرغم من أن بعض الدول النامية تشهد تطوراً كبيراً بفضل إصلاحات بنوية واجتماعية لضمان نمو دائم كما هو الحال في البرازيل وتركيا ... إلا أن الاقتصاد العالمي برمته سيعاني في عام 2013 من حالة تباطؤ كبير جداً، إذا ما تمكنت بلدان العالم ومؤسساته المالية من التعامل بمرونة للتغلب على العديد من الأزمات وبالأخص أزمة منطقة اليورو...".

كمال عبيد /الاقتصاد العالمي... بين صعود آسيا وتراجع أوروبا.

المطلوب:

- أ- حدّد مفهوم المصطلحات التي تحتها خط.
ب- على خريطة العالم المرفقة عيّّن أسماء الدول الواردة في الوثيقة.

2- إليك جدولاً للمبادلات التجارية للجزائر مع بعض دول العالم سنة 2012 .

التصدير			الاستيراد		
%	القيمة/ مليون دولار	البلد	%	القيمة/ مليون دولار	البلد
16.41	11943.00	الو.م.أ	12.83	6005.00	فرنسا
15.77	11670.00	إيطاليا	12.56	5879.00	الصين
08.92	6601.00	فرنسا	09.29	4349.00	إيطاليا
07.15	5291.00	هولندا	05.50	2594.00	ألمانيا
04.11	3041.00	تركيا	03.81	1784.00	تركيا
03.64	2696.00	الصين	03.50	1637.00	الو.م.أ

الوكالة الوطنية للتطوير والاستثمار سنة 2013.

المطلوب:

علّق على الجدول.

الجزء الثاني: (04 نقاط)

إنّ منطقة شرق وجنوب شرق آسيا أصبحت بكل المقاييس أكثر غنى وقوة وأهمية، يعيش بها ما يقارب نصف سكان العالم، تضاعف دخل الفرد في بعض دولها سبع مرات ما بين 1950-2005.

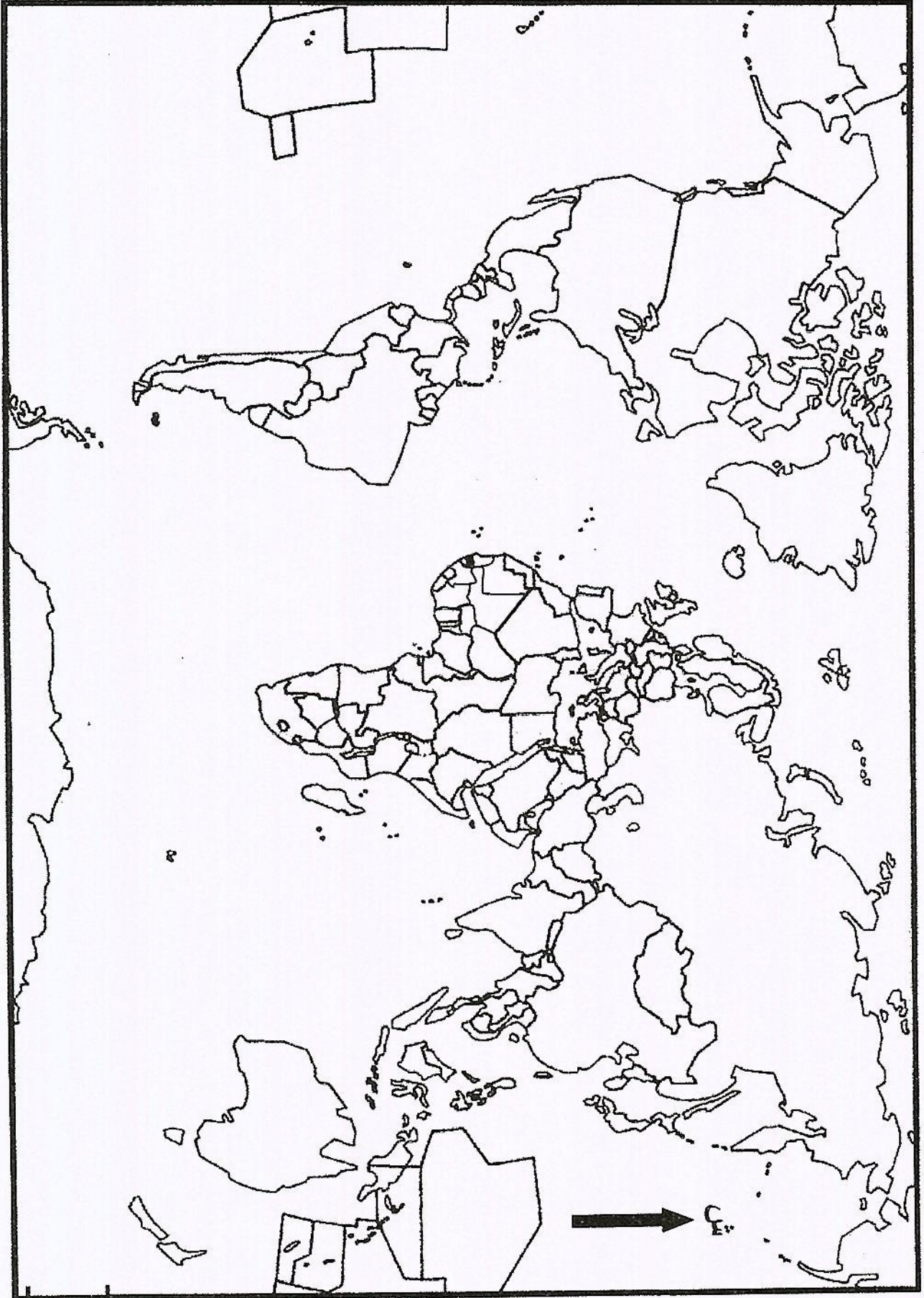
المطلوب:

انطلاقاً من الفقرة واعتماداً على ما درست، اكتب موضوعاً جغرافياً تُبرز فيه:

1- عوامل القوة الاقتصادية لمنطقة شرق وجنوب شرق آسيا.

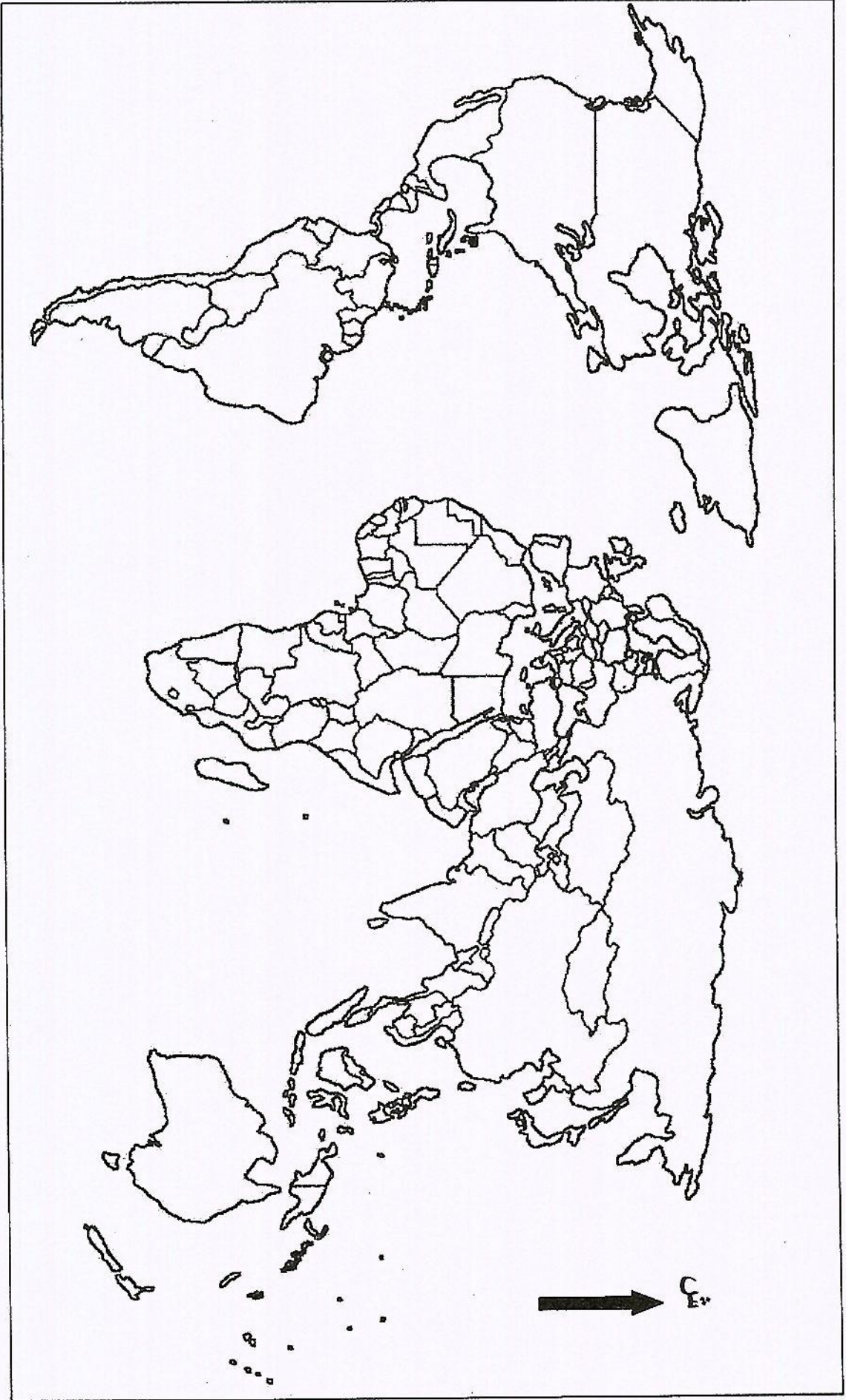
2- مكانة المنطقة في الاقتصاد العالمي.

خريطة العالم لما قبل 1989 (خاصة بالموضوع الأول)



ينجز العمل المطلوب على الخريطة وتعاد مع أوراق الإجابة

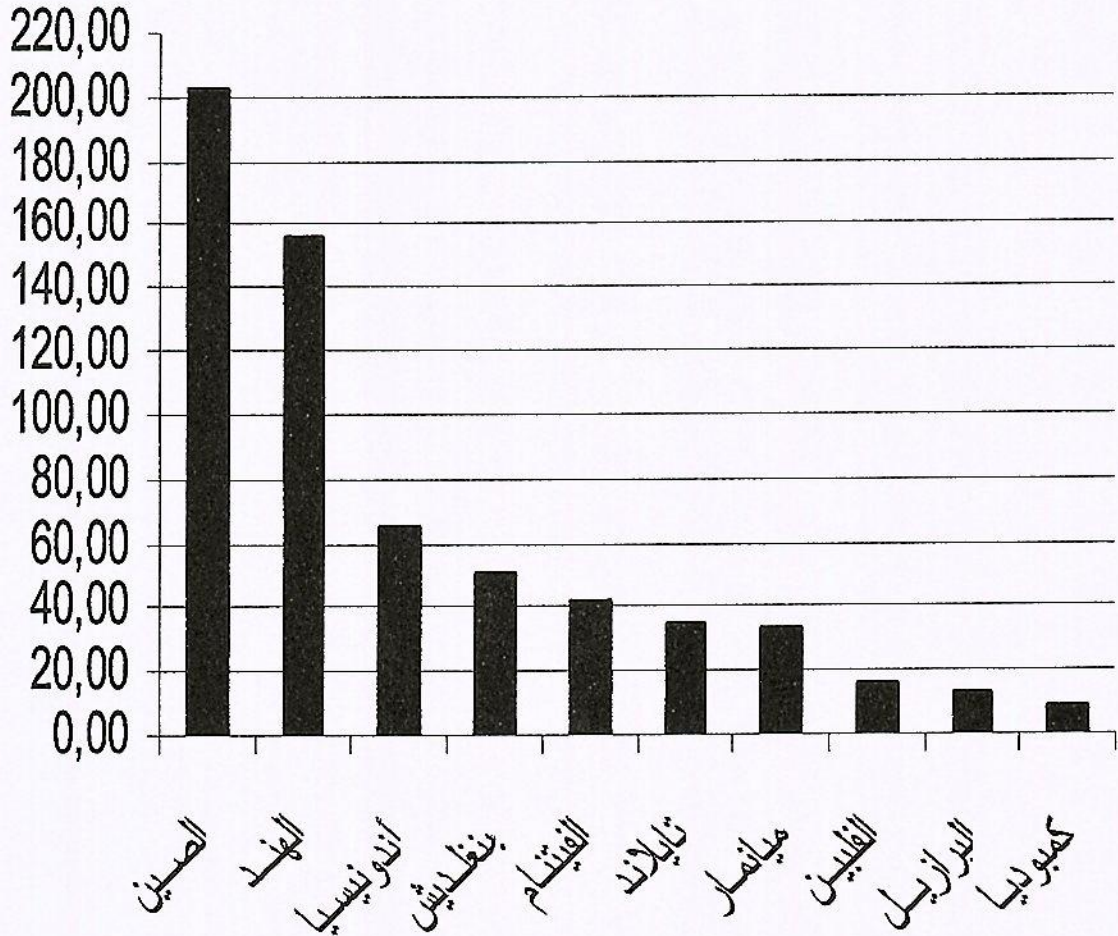
خريطة العالم (خاصة بالموضوع الثاني)



ينجز العمل المطلوب على الخريطة وتعاد مع أوراق الإجابة

		ثانيا: جغرافيا الجزء الأول: 1- أ- مفهوم المصطلحات:
	0.75	-الأزمة المالية: اضطراب مالي يحدث في المؤسسات المالية نتيجة وجود عجز في السداد أو انخفاض مفاجئ في الأسعار يؤثر سلبا في قطاعات الدولة قد يؤدي بها إلى الانهيار.
	0.75	-منطقة اليورو: الاسم الذي يطلق على دول الاتحاد الأوروبي المنظمة إلى العملة الموحدة اليورو، بدأ العمل بها سنة 1999، تضم 18 دولة إلى غاية 2014 من مجموع 28 دولة عضو في الاتحاد.
06	0.75	-الدول النامية: هي الدول السائرة في طريق النمو والتي يقع معظمها في النصف الجنوبي من الكرة الأرضية بقارات آسيا، إفريقيا وأمريكا اللاتينية وتتميز بغناها بالمواد الأولية إلا أنها تعاني التخلف والتبعية للعالم المتقدم.
	1.50	ب- الخريطة: - الإنجاز.
	0.50	- العنوان.
		2- التعليق على الجدول :
	0.25	- تركيز وتنوع مناطق التبادل التجاري للجزائر مع العالم المتقدم (أوروبا، أمريكا الشمالية، آسيا) للاختلاف في البنية الاقتصادية.
	0.25	- التفاوت في نسب المبادلات التجارية الجزائرية مع الدول الواردة في الجدول.
	0.25	- اختلال قيمة المبادلات التجارية مع بعض الدول (استيرادا وتصديرا).
	0.25	- احتلال فرنسا الصدارة في الاستيراد والثالثة في التصدير.
	0.25	- الصين الثانية في الاستيراد والسادسة في التصدير.
	0.25	- الوم أ السادسة في الاستيراد والأولى في التصدير.
	0.25	- التوازن في المبادلات التجارية الجزائرية مع تركيا وإيطاليا.
	0.25	الجزء الثاني: المقدمة: منطقة شرق وجنوب شرق آسيا بين الاستثمار العقلاني للعنصر البشري وبروزها كقوة فاعلة ومؤثرة في الاقتصاد العالمي.
	0.50	العرض: 1- عوامل القوة الاقتصادية لمنطقة شرق وجنوب شرق آسيا:
	0.25	- العامل التاريخي والسياسي (الاستقرار، الإصلاحات، الاستفادة من المساعدات وتبادل الخبرات ...).
	0.25	- العامل الطبيعي (الموقع الإستراتيجي، الإشراف على المسطحات المائية).
	0.25	- العامل البشري: قوة ديمغرافية (الاستثمار الجيد للمجال البشري- روح التحدي للسكان - اتساع الأسواق الاستهلاكية- يد عاملة مؤهلة ورخيصة ومنضبطة).
	0.75	- العامل الاقتصادي:- ضخامة وتنوع الإمكانات الطبيعية والمادية خاصة الصين. - كثرة رؤوس الأموال الداخلية والخارجية. - الاعتماد على سياسة التكتلات (الآسيان). - التطور العلمي والتكنولوجي.
		2- المكانة الاقتصادية للمنطقة في الاقتصاد العالمي:
	0.25	- استحواذ المنطقة على ربع الثروة العالمية.
	0.25	- قوة الاستثمار 21.52% من الاستثمار العالمي.
	0.25	- قوة الأسطول التجاري 57.9% من إجمالي سفن العالم.
	0.25	- ضخامة المنتج الصناعي وتنوعه (الفلواذ 36%، السيارات 70%).
	0.25	- ارتفاع نسبة النمو الاقتصادي (الصين 10%).
		- قوة المساهمة في التجارة العالمية:
	0.25	- تصديرا: الصين الأولى واليابان الثالثة، كوريا الجنوبية الرابعة.
	0.25	- استيرادا: الصين الثانية، اليابان الثالثة، هونغ كونغ الرابعة.
04	0.50	الخاتمة: دول شرق وجنوب شرق آسيا قوة اقتصادية متنامية، منافسا جديدا لكل من الاتحاد الأوروبي والو. م. أ. ملاحظة: تقبل كل الإجابات الصحيحة الأخرى مع احترام سلم التثقيط الوطني.

الدول العشر الأولى المنتجة للأرز سنة 2011



دورة: جوان 2015

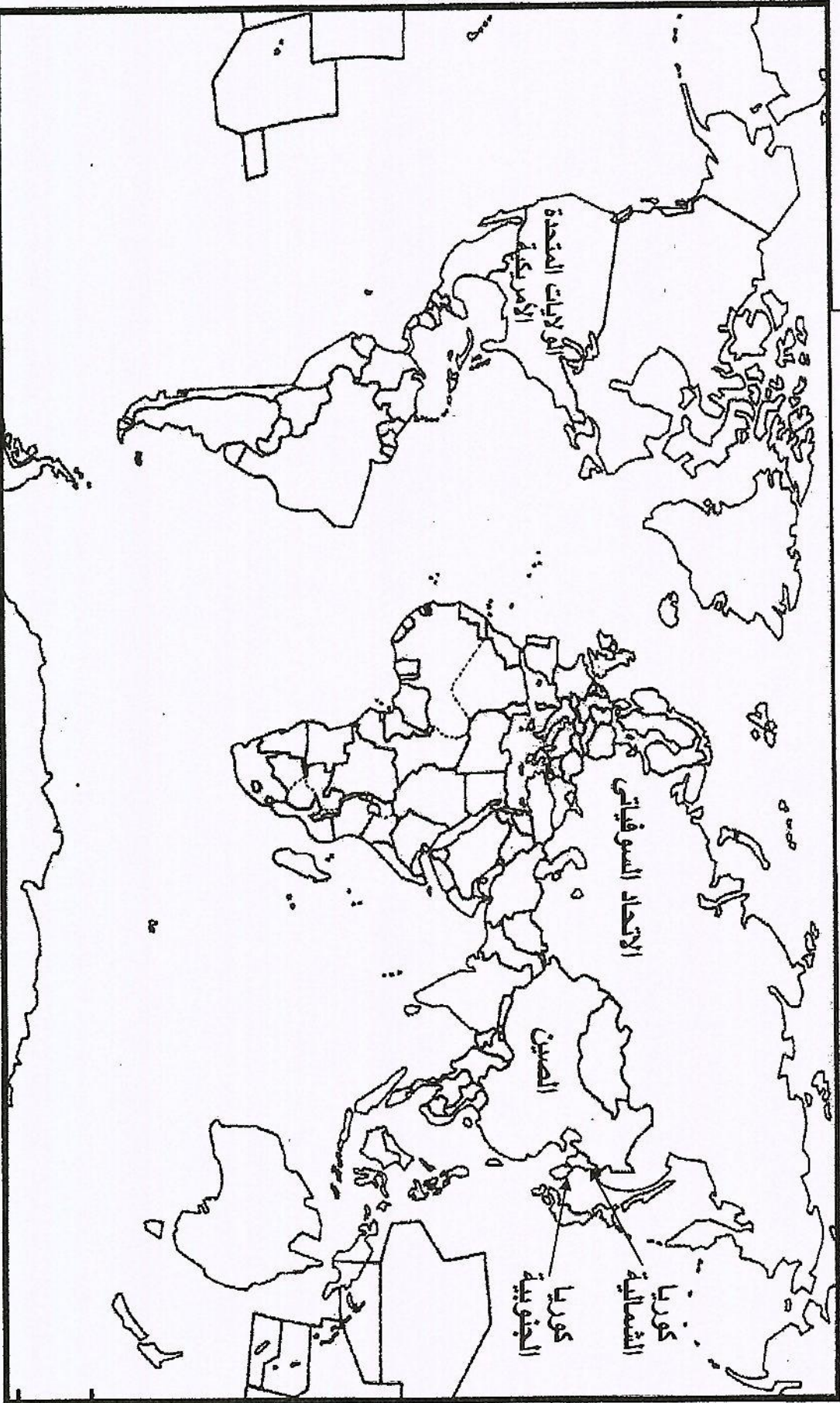
مادة: التاريخ و الجغرافيا

المدة: 30 و 03

الشعبة/السلك: لغات أجنبية

تابع الإجابة النموذجية لموضوع امتحان: البكالوريا

بعض مناطق الصراع بين الو . م . أ والاتحاد السوفياتي



تاريخ الإجابة النموذجية لموضوع امتحان: البكالوريا
مادة: التاريخ و الجغرافيا
دورة: جوان 2015
الشفية/السلك: لغات أجنبية
المدة: 03س و 30د

الدول الواردة في الوثيقة

